

1. Bu testte sırasıyla, Tarih (1-5), Coğrafya (6-10), Felsefe (11-15), Din Kültürü ve Ahlak Bilgisi (16-20), Din Kültürü ve Ahlak Bilgisi dersini yasal olarak almak zorunda olmayan veya farklı müfredat ile alanlar için Felsefe (21-25) alanlarına ait toplam 25 soru vardır.
2. Cevaplarınızı, cevap kâğıdının Sosyal Bilimler Testi için ayrılan kısmına işaretleyiniz.

1. Bugün Konya ili sınırlarında bulunan Çatalhöyük, Anadolu coğrafyasında 2000 yıldan fazla bir zamanda köy yaşamından kentsel hayata geçişin önemli bir kanıtıdır. İlk yerleşim yerlerinden biri olması nedeniyle insanlık tarihi açısından büyük önem taşıyan Çatalhöyük'te ezme ve öğütme taşlarının bulunması, buradaki insanların kendi ekmek ihtiyaçlarını karşıladıklarını göstermektedir.

Bu bilgiler Çatalhöyük'te yaşamış kültür ile ilgili olarak;

- I. tarımsal üretimin yapıldığı,
II. şehir yerleşimine öncülük edildiği,
III. mimarinin geliştiği

durumlarından hangisi için kanıt olabilir?

- A) Yalnız I B) I ve II C) I ve III
D) II ve III E) I, II ve III

2. VI. yüzyılın ikinci yarısında Kök Türkleri Orta Asya'daki Altın Dağ'da ziyaret eden Bizans Elçisi Zemarkhos, İstemi Yabgu'yu bir otağın içinde, gerektiğinde tek bir atın çekebileceği iki tekerlekli altın bir tahtta otururken görmüştür. Zemarkhos baştan başa altın levhalarla kaplı sütunlar vasıtasıyla salonlara ve koridorlara ayrılmış büyük hakanın çadırına girince hayrete düşmüş, etrafa serpiştirilmiş altın heykelticikler ve vazoların inceliği karşısında ise şaşırmıştır.

Bizans Elçisi Zemarkhos'un verdiği bu bilgilere göre Türklerle ilgili olarak;

- I. maden işlemeciliğinin ileri seviyede olduğu,
II. devlet protokolünde taşınabilir sanat eserlerinin kullanıldığı,
III. başka devletlerle diplomatik ilişkilerin kurulduğu

durumlarından hangilerine ulaşılabılır?

- A) Yalnız I B) Yalnız II C) I ve II
D) I ve III E) I, II ve III

3. Türklerin ve diğer Müslüman grupların kendi sanat ve ticaretlerine yeni bir yaşama ve çalışma kültürü oluşturmak amacıyla kurulan Ahi teşkilatı, Anadolu'ya gelen göçebelerin yerleştirilmesinde de büyük rol oynamıştır. Teşkilatının bilinen ilk kadın üyesi Fatma Bacı'dır. Bu teşkilatla esnaf ve sanatkarlar tek bir örgüt altında toplanmış ve bunlar ahlaki, mesleki ve askerî bir eğitimden geçirilmişlerdir. Ayrıca Osmanlı Devleti'nin kurucusu Osman Gazi'nin yanında bulunan Hasan ve Turgut Alp ile Kara Halil'in yine ahilerden oldukları bilinmektedir.

Bu bilgilere göre Ahi teşkilatı ile ilgili olarak aşağıdaki yargılardan hangisine ulaşılamaz?

- A) Teşkilat üyeliklerinin belirlenmesinde cinsiyet ayrımı yapılmamıştır.
B) Gerektiğinde vatan savunması için bireyler yetiştirilmiştir.
C) Anadolu'daki tüm esnaf gruplarının teşkilata üye olabilmesi mümkündür.
D) Konargöçer olan Anadolu'nun yeni sakinlerinin kent hayatını benimsemesinde rol oynamıştır.
E) Osmanlı Devleti'nin kuruluşunda aktif olarak rol almışlardır.

4. Tarih öğretmeni Ramazan Yetgin, öğrencilerine bir hatırrattan; "Ailem yorgan, minder, kıyafet, üç beş torba bulgur, un koydular ve para, altın ne varsa eşyalar arasına sakladılar. Diğer aileler de aynı şeyi yapıyorlardı. Herkes can derdine düşmüştü. Şehirden çıkıp mezarlık yanından geçerken babası ölmüşlerinin ruhuna dualar okudu. "Ata yurdunu" bir daha görmemek üzere yola çıkmışlardı. Esas memleketimiz, yani doğduğum yer, şimdiki Yugoslavya'nın Makedonya eyaleti; Üsküp vilayetinin Osmaniye, en son adıyla Pehçevo kasabası. 13 Ekim 1912 Salı günü, alafrağa saat 13-14 arasında idi şehri terk ettik." bölümünü okuyarak bu hatırratın hangi olay sonrası kaleme alınmış olabileceğini öğrencilerine sormuş ve öğrencilerden bazıları sırasıyla şu cevapları vermiştir:

Ahmet: Trablusgarb Savaşı

Esin : I. Dünya Savaşı

Yeliz: Balkan Savaşları

Hakan: 93 Harbi

Uğur: Kırım Savaşı

Buna göre, öğrencilerden hangisinin verdiği bilgi doğrudur?

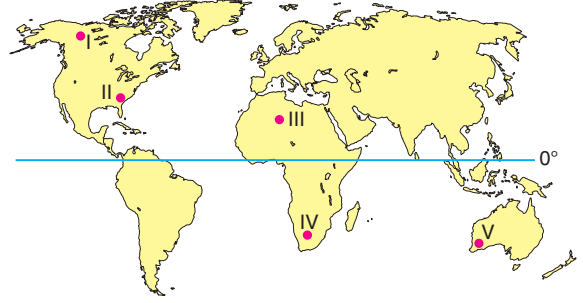
- A) Uğur B) Yeliz C) Hakan
D) Esin E) Ahmet

5. Maraş'ı işgal eden Fransızların, Ermeni azınlığı ile iş birliği yaparak burayı sömürge hâline getirme çabaları Maraşlıları harekete geçirdi. Maraş Kalesi'nde asılı Türk bayrağının indirilerek yerine Fransız bayrağının çekilmesi üzerine Ulucamii İmamı Rıdvan Hoca "Kalelerinde hür bayrağı dalgalanmayan, esir bir memlekette cuma namazı kılınmaz." diyerek halkı coşturdu ve halk kaleye asılı Fransız bayrağını indirerek yerine Türk bayrağını çekti.

Bu bilgiyle aşağıdaki yargılardan hangisine ulaşamaz?

- A) İtilaf Devletleri işgallerde azınlıkları kullanmışlardır.
B) TBMM Fransa ile Ankara Antlaşması'nı yaparak güney sınırındaki işgalleri durdurmuştur.
C) Türk milleti için bağımsız yaşamak her şeyin üstünde görülmüştür.
D) Din adamları Anadolu'da yapılan işgallere karşı halk direnişlerinde etkili olmuştur.
E) Fransız ve Ermenilerin işgalleri Wilson İlkelerine ters düşmüştür.

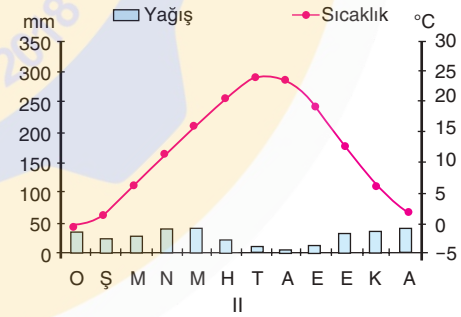
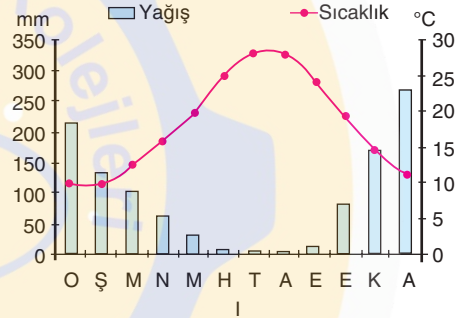
6.



Yukarıdaki dünya haritası üzerinde numaralandırılarak verilen merkezlerin hangilerinde hörgüç kaya, sander düzlüğü ve drumlin tepesi gibi aşınım ve birikim şekilleri yaygın olarak görülmektedir?

- A) Yalnız I B) II ve III C) Yalnız II
D) I ve IV E) IV ve V

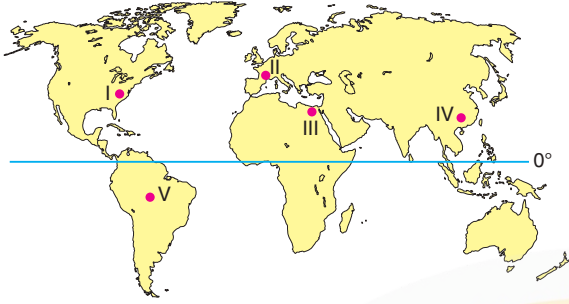
7. Aşağıda dünyada yer alan iki farklı yöreye ait yağış ve sıcaklık grafikleri verilmiştir.



Buna göre, bu yörelerde görülen iklim özelliklerine bağlı olarak aşağıdakilerden hangisi yanlıştır?

- A) I numaralı merkezde karlı ve donlu gün sayısı daha azdır.
B) II numaralı merkezde yaşanan iklim özelliği Türkiye'de en geniş alanda etkilidir.
C) II numaralı merkezde daha kısa sürede yetişecek tarım ürünleri tercih edilmektedir.
D) I numaralı merkezde doğal bitki örtüsü iğne yapraklı ağaçlardır.
E) II numaralı merkezde geven, yavşan otu, gelincik gibi bitki türleri yaygındır.

8. Beşerî özelliklerine göre sınıflandırılmış bölgelerde nüfus ve yerleşme dikkate alınmaktadır.



Buna göre, yukarıdaki dünya haritası üzerinde numaralandırılarak verilen merkezlerin hangisi seyrek nüfuslu bölge kapsamında yer almaktadır?

- A) I B) II C) III D) IV E) V

9. İpek Yolu, Çin'den başlayarak Anadolu ve Akdeniz aracılığıyla Avrupa'ya kadar uzanan dünyaca ünlü eski bir ticaret yoludur. İpek Yolu'nun ana güzergâhı Çin'i Orta Asya ve İran üzerinden Mezopotamya'ya, oradan da Akdeniz kıyısındaki Antakya ve Sûr limanlarına bağlayan kara yoludur. Bu güzergâha dair en eski kayıt, MÖ VII. yüzyıla ait çivi yazısı ile yazılmış bir tablet üzerinde olup yolun Mezopotamya'dan Hemedan'a (Ekbatan) kadar uzanan kısmıyla ilgilidir.

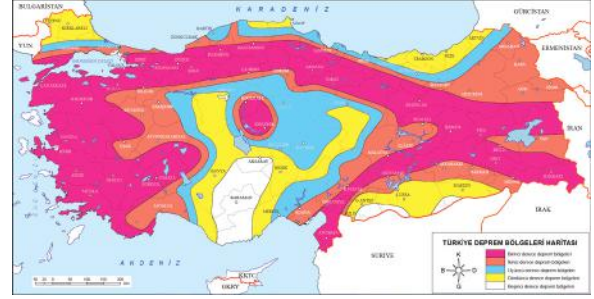
Buna göre;

- I. Coğrafi Keşifler,
II. İpek Yolu'nun Müslüman devletlerin kontrolünde olması,
III. Avrupa'da ipek yerine farklı ürünlerin kullanılmaya başlanması

durumlarından hangileri İpek Yolu'nun önemini yitirmesine neden olmuştur?

- A) Yalnız I B) Yalnız II C) Yalnız III
D) I ve II E) I, II ve III

- 10.



Yukarıda Türkiye haritasında tektonik deprem riskinin fazla olduğu alanlar gösterilmiştir. Bu araziler büyük fay sistemlerine paraleldir.

Buna göre, yer kökenli afet olan depremin yarattığı can ve mal kaybını en aza indirmek için aşağıdakilerden hangisinin uygulanması doğru olmaz?

- A) Deprem sonrası toplanma alanları belirlenmelidir.
B) Dikey mimari geliştirilmelidir.
C) Yapılarda çelik konstrüksiyon kullanımı yaygınlaştırılmalıdır.
D) İnsanlar yaşamış oldukları yerleşim birimi hakkındaki riskleri ilgililerden öğrenmelidir.
E) Bina temellerinde raylı sistemlerin kullanımı artırılmalıdır.

11. Felsefeyi Sokrates "bilmediğini bilmek", Epiküros "mutlu bir yaşam kurmak için tasarlanmış eylemsel bir sistem", Kant "bilginin nasıl mümkün olabileceğini öğrenme çabası" olarak tanımlamıştır.

Bu parçada felsefenin hangi özelliği üzerinde durulmuştur?

- A) Öznelliği B) Değişime açıklığı
C) Evrenselliği D) Eleştirelliği
E) Sistemliliği

12. Teknik bilgi gibi sanatsal bilgi de yetenek, yaratma ve üretim etkinliği olarak ortaya çıkmıştır. Ancak teknik bilgi fayda sağlamak amacına dönükken sanatsal bilgi güzellik duygusunu amaç edinmiştir. Güzelliğin ortaya konulması süreci sonunda sanatsal etkinliği doğurmuştur. Sanatçı, yöneldiği nesneyi elindeki malzeme ile ifade eder.

Bu parçaya göre aşağıdaki yargılardan hangisine ulaşamaz?

- A) Sanat bilgisi sanatçıya göre şekillenir.
- B) Sanat bilgisi güzeli, teknik bilgi faydayı elde etmeye çalışır.
- C) Sanatın konusu evrenin kesin bilgisini elde edebilmektedir.
- D) Sanat bilgisi de teknik bilgi gibi bir ürün içermektedir.
- E) Sanatın en önemli amacı, güzelliğin ortaya konulmasıdır.

13. Spinoza'ya göre tek tek nesnelerin ve görünüşlerin Tanrı'nın dışında ayrı bir varlığı yoktur. Asıl varlık olarak Tanrı, her şeyin nedenidir.

Bu parçadan hareketle aşağıdakilerden hangisine ulaşılabilir?

- A) Tanrı bir ilk nedendir ve varlıklar ondan bağımsızdır.
- B) Her varlık Tanrı'dan bağımsız Tanrı'nın bir yansımasıdır.
- C) Gerçek nesnelere ve görünüşler duyuların ötesindedir.
- D) Tanrı evrenin gerçekliğinden bağımsızdır.
- E) Tanrı, evrenle bir ve aynı şeydir.

14. İnsan toplum içinde yaşar ve onu toplumdaki soyutlanmış düşünmek olanaksızdır. Sanatsal gelişmenin her aşamasında, sanatsal etkinliklerin yapısını toplumsal ilişkiler belirlemiştir. Sanatın dille, dinle, kültürle, sezgiyle ve duygularla yakın ilişkisi yadsınamaz. Bu ilişkilerin açıklanması için öncelikle sanat eserinin meydana geliş sürecini bilmek gerekir.

Bu parçadan aşağıdaki yargılardan hangisine ulaşılabilir?

- A) Sanat eseri ve doğa aynıdır.
- B) Sanat eserinin değerini gerçekle uyum sağlaması belirler.
- C) Sanat, içinde bulunduğu toplumdan etkilenir.
- D) Sanat toplumun isteklerine göre şekillenir.
- E) Sanatçı toplumda diğer insanlardan üstün olmalıdır.

15. Rousseau'ya göre ilk insan, toplumların kuruluşuna kadar tam bir eşitlik içinde ve mutlu yaşıyordu. Bu doğal yaşamı tarımın başlamasıyla gelişen mülkiyet anlayışı sonlandırdı. Doğal eşitlik ortadan kalkınca da insanlar bir sözleşme yapmak zorunda kaldı. Bu sözleşme mülkiyet ve eşitsizliği iyice pekiştirdi ve böylece de özgürlük ortadan kalktı. Devletler arasında savaşlar başladı. Tüm bunlar doğa yasasına aykırıydı çünkü eşitlik doğada olamayan, doğal hukuka aykırı bir kavramdır.

Bu parçaya göre Rousseau'nun devlet anlayışı ile ilgili aşağıdaki yargılardan hangisine ulaşılabilir?

- A) Devlet doğal bir varlık olarak insandan önce zorunlu oluşmuş bir varlıktır.
- B) Devlet bireyler tarafından oluşturulmuş yapay bir varlıktır.
- C) Doğal durumda yaşayan insan hayatta kalmak için sözleşmeye dayalı bir toplum kurmuştur.
- D) Devlet, bireyin ve toplumun yararı gözetilerek ortaya çıkmış bir varlıktır.
- E) Devletlerin devamlılığı bireyin ve toplumun varlığına bağlıdır.

16. - 20. SORULARI DİN KÜLTÜRÜ VE AHLAK BİLGİSİ DERSİNİ YASAL OLARAK ALMAK ZORUNDA OLANLAR VE İMAM HATİP OKULLARI ÖĞRENCİLERİ / MEZUNLARI CEVAPLAYACAKTIR.

16. Aşağıdaki ayetlerden hangisinde Hz. Peygamberin insanı yönü vurgulanmıştır?

- A) "Ve sen elbette yüce bir ahlak üzeresin."
(Kalem Suresi, 50. Ayet)
- B) "... Vahiyden başkası değildir."
(Necm Suresi, 4. Ayet)
- C) "Muhakkak ki sen de öleceksin, onlar da ölecekler."
(Zümer Suresi, 30. Ayet)
- D) "Ey Peygamber! Rabbinden sana indirileni tebliğ et."
(Maide Suresi, 67. Ayet)
- E) "De ki Allah birdir. Samettir."
(İhlas Suresi, 1-2. Ayet)

17. – Varlığın başlangıcı yoktur. Başlangıç itibarıyla sonsuzdur, ezeldir.
– Allah vardır, varlığı başkasından değil kendindedir. Varlığı kendisine hastır.

Yukarıda tanımı verilen iki kavram sırasıyla aşağıdakilerden hangisidir?

- A) Vücut - Vahdaniyet
B) Beka - Kıdem
C) Vücut - Basar
D) Hayat - İlim
E) Kıdem - Kıyamı bi nefsihi

18. I. "Ve sen elbette yüce bir ahlak üzeresin."

(Kalem Suresi, 22. Ayet)

II. "O göklerin ve yerin ve ikisinin arasındakinin Rabb'idir. Şu hâlde O'na kulluk etmek için sabırlı ve metanetli ol."

(Meryem Suresi, 65. Ayet)

III. "Sizin İlah'ınız yalnızca kendisinden başka İlah bulmayanlara Allah'tır."

"Onun ilmi her şeyi kuşatmıştır."

(Ta'ha Suresi, 98. Ayet)

Numaralanmış ayetlerden hangileri Kur'an'ın ana konularından olan inanç, ahlak ve ibadetle ilgili ayetlere örnektir?

- A) Yalnız I
B) Yalnız II
C) I ve II
D) II ve III
E) I, II ve III

19. "Dinî bir terim olarak su kullanma imkânı bulunmadığı durumlarda temiz toprağa sürülen ellerle yüz ve iki kolun meshedilmesi" şeklinde yapılan sembolik temizliğe verilen isim aşağıdakilerden hangisidir?

- A) Gusül
B) Banyo
C) Boy abdesti
D) Teyemmüm
E) Abdest

20. "And olsun ki Allah'ın Resülü'nde sizin için; Allah'a ve ahiret gününe kavuşmayı uman, Allah'ı çok zikreden kimseler için güzel örnekler vardır."

(Ahzap Suresi, 21. Ayet)

Buna göre;

I. "Sen elbette üstün bir ahlak sahibisin."

(Kalem Suresi, 4. Ayet)

II. "Gecenin bir kısmında kalkıp sana mahsus bir nafile olarak namaz kıl."

(İsra Suresi, 79. Ayet)

III. "O Allah'ın elçisi peygamberlerin sonuncusudur."

(Hicr Suresi, 94. Ayet)

ayetlerinden hangileri Hz. Peygamber'in örnek alınması gereken yönüyle ilgilidir?

- A) Yalnız I
B) I ve II
C) I ve III
D) Yalnız III
E) Yalnız II