

1. Bu testte sırasıyla, Tarih (1 - 7), Coğrafya (8 - 15) alanlarına ait toplam 15 soru vardır.
2. Cevaplarınızı, cevap kâğıdının **Sosyal Bilimler Testi** için ayrılan kısmına işaretleyiniz.

1. Sümerlerin uygarlık tarihine katkıları arasında; yazının icadı, Ziggurat adı verilen tapınakları inşa etmeleri, Ay yılı esasına dayanan takvimi icat etmeleri ve ilk yazılı kanunları hazırlamaları yer almaktadır.

**Bu bilgi dikkate alındığında, Sümerlerin hangi alanda uygarlık tarihine doğrudan katkı sağladığı söylenemez?**

- A) Dini mimari
- B) Hukuk
- C) Astronomi
- D) Siyasi
- E) Kültür

2. Yazıyı Sümerler icat etmiş olsa da, Fenike alfabesi bu alanda tam bir devrim niteliğindedir. Bu yeni alfabe sayesinde okuma-yazma öğrenmek artık yıllar süren, uzun ve zahmetli bir süreç olmaktan çıkmıştır. Fenike alfabesi daha sonra Yunan ve Romalılar tarafından geliştirilmiş, böylece günümüzde kullandığımız Latin alfabesi oluşturulmuştur.

**Bu bilgilere göre;**

- I. Fenike alfabesinin icadı ile tarih devirleri başlamıştır.
- II. Latin alfabesi, insanlığın ortak mirasıdır.
- III. Fenike alfabesi, okuma-yazma öğrenmeyi bir ayrıcalık olmaktan çıkarmıştır.

**yargılarından hangilerine ulaşamaz?**

- A) Yalnız I
- B) Yalnız II
- C) I ve II
- D) I ve III
- E) II ve III

3. Aşağıdakilerden hangisi Anadolu'da kurulan uygarlıklardan biri değildir?

- A) Hititler
- B) Asurlular
- C) Frigler
- D) Urartular
- E) Lidyalılar

4. İlk Çağ'da yaşanan gelişmelerden hangisinin farklı kültürler arasında etkileşimin yaşanmasına katkısının diğerlerine göre daha az olduğu söylenebilir?

- A) İpek Yolu'nun oluşması
- B) Büyük İskender'in Asya Seferi
- C) Fenikelilerin, Akdeniz havzasının farklı bölgelerinde koloniler kurması
- D) Sümerlerin, ziggurat adı verilen tapınaklar inşa etmesi
- E) Ege göçleri, Yahudi sürgünleri gibi göç hareketlerinin yaşanması

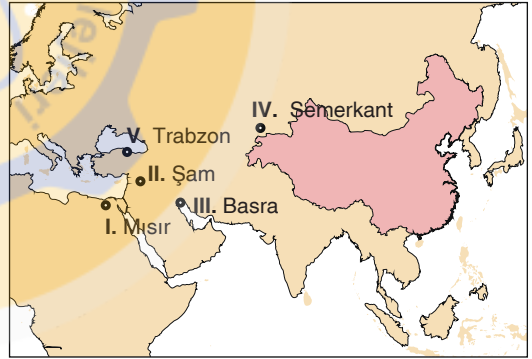
6. İlk ve Orta Çağ'larda "artı ürün" elde etmek;

- I. Kuraklık
- II. Ticaret
- III. Kıtık

konulardan hangilerinde yaşanabilecek sorunları en aza indirebilmek için zorunlu olmuştur?

- A) Yalnız I
- B) Yalnız II
- C) I ve II
- D) II ve III
- E) I, II ve III

7.



5. Orta Çağ'da ticaret yapmak amacıyla kullanılan mekânlar arasında aşağıdakilerden hangisinin yer aldığı söylenemez?

- A) Arasta
- B) Han
- C) Site
- D) Kervansaray
- E) Ribat

Yukarıdaki haritada numaralandırılmış yerlerden hangileri yalnızca İpek Yolu ticaretinde rol oynayan yerleşim yerlerindedir?

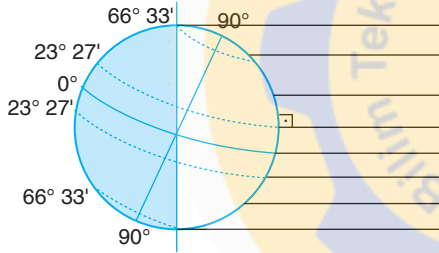
- A) II ve III
- B) IV ve V
- C) I ve III
- D) II ve IV
- E) I, II ve III

## 9. Sınıf

8. Bir akarsuyun aşındırma süreçleri ile oluşturduğu vadinin genişliğini, ortalama eğimini ve derinliğini inceleyen, o vadiyi oluşturan tabakaların duruşlarını ve yapılarını araştıran bir coğrafyacı, coğrafya biliminin aşağıdaki alt dallarından hangisi ile ilgili çalışma yapmış olur?

- A) Matematik coğrafya B) Klimatoloji  
C) Jeomorfoloji D) Hidrografya  
E) Biyocoğrafya

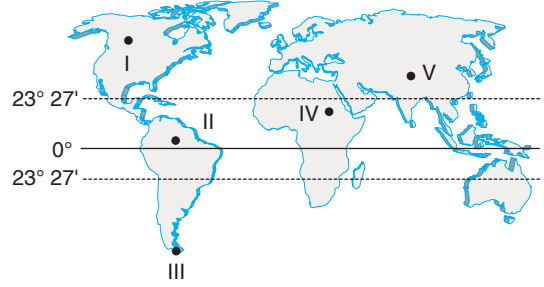
9. Dünya'nın Güneş'e karşı konumu aşağıda verilmiştir.



Buna göre, yukarıdaki Türkiye haritasında konumları gösterilmiş şehirlerden hangisinde gün doğumu ile gün batımı arasında geçen süre diğerlerinden daha kısadır?

- A) Ankara B) Hatay C) İstanbul  
D) Konya E) Malatya

10. Aşağıdaki Dünya haritası üzerinde bazı cisimlerin bulunduğu noktalar numaralandırılarak gösterilmiştir.



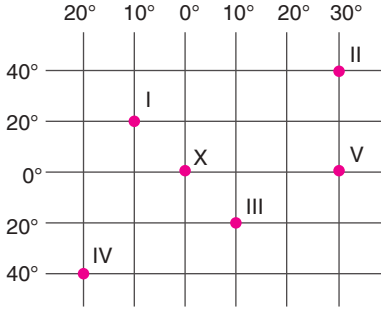
Buna göre, bu noktalardan hangisinde yer alan cismin gölgesi 21 Aralık günü öğle vakti güneye doğru düşer?

- A) I B) II C) III D) IV E) V

11. Dünya'nın günlük hareketini batıdan doğuya doğru gerçekleştirmesinin sonucunda aşağıdakilerden hangisinin gerçekleşmesi beklenmez?

- A) Doğudaki noktalarda yerel saatin daha ileri olması  
B) Güneş'in doğudan doğması  
C) Sürekli rüzgârların güney yarım kürede esiş yönlerinin solun sapması  
D) Yeryüzündeki bir noktada bulunan cisimlerin gün içinde gölgelerinin sabah vaktinde batıya doğru düşmesi  
E) Güneş ışınları geliş açısının Ekvator'dan kutuplara doğru küçülmesi

12.

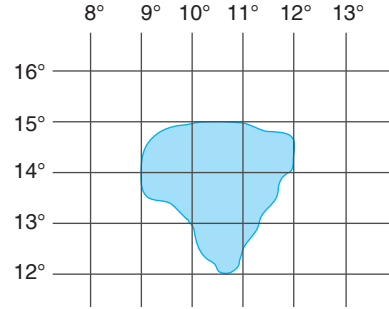


Yukarıda yeryüzündeki bir bölgenin coğrafi koordinatları üzerinde bazı noktalar numaralandırılarak gösterilmiştir.

**Buna göre, Ekvator ile Greenwich'in kesiştiği X noktası merkeze alındığında, numaralandırılmış diğer noktalar ile ilgili aşağıdaki yorumlardan hangisi yapılamaz?**

- A) X'e göre kuzeybatıda yer alan nokta I'dir.
- B) X'e göre doğuda yer alan nokta V'tir.
- C) X'e göre 120' yerel saat farkı olan noktalar II ve V'tir.
- D) X'e göre yerel saati 40' geri olan nokta I'dir.
- E) X'e göre güneybatıda yer alan nokta III'tür.

13.



Yukarıda yeryüzündeki bir adanın coğrafi koordinatları gösterilmiştir.

**Bu adanın matematik (mutlak) konumu belirtilirken aşağıdaki koordinatlardan hangisi kullanılmaz?**

- A) 14° Kuzey
- B) 12° Kuzey
- C) 9° Doğu
- D) 12° Doğu
- E) 15° Kuzey

## 9. Sınıf

14. Yeryüzünde Ekvator'dan kutuplara doğru gidildikçe belli unsurlarda meydana gelen düzenli değişimlere enlem etkisi denir.

**Buna göre, enlemin etkileri de göz önünde bulundurulduğunda aşağıda verilen değişimlerden hangisi enlem ile çelişme gösterir?**

- A) Antalya'nın güneş ışınlarını Sinop'a göre daha büyük açılarla alması
- B) Hatay'daki Amanos Dağları'nda kalıcı kar sınırının Rize'deki Kaçkar Dağları'na göre daha yüksekte olması
- C) Akdeniz'in tuzluluk oranının Karadeniz'den daha fazla olması
- D) Adana'da ekilen mısırın Edirne'de ekilen mısıra göre daha geç olgunlaşması
- E) 21 Haziran'da Mersin'deki gündüz süresinin Samsun'daki gündüz süresinden daha kısa olması

15. • Kartografya biliminin gelişmesine katkı sağlayan en önemli Müslüman bilim insanıdır.

- 1154 yılında "Uzak Diyarlara Hoş Seyahatler Kitabı" adlı esere bir dünya haritası çizmiştir.
- Dünya'nın şeklini küre olarak kabul etmiş, çevre uzunluğunu 36.900 km olarak hesaplamıştır.

**Yukarıda bazı özellikleri verilen ve haritacılığın tarihsel gelişimine katkı sağlamış olan bilim insanı aşağıdakilerden hangisidir?**

- A) Hârizmi  
B) Birunî  
C) Belhli Ebu Zeyd  
D) İdrisi  
E) Kaşgarlı Mahmut